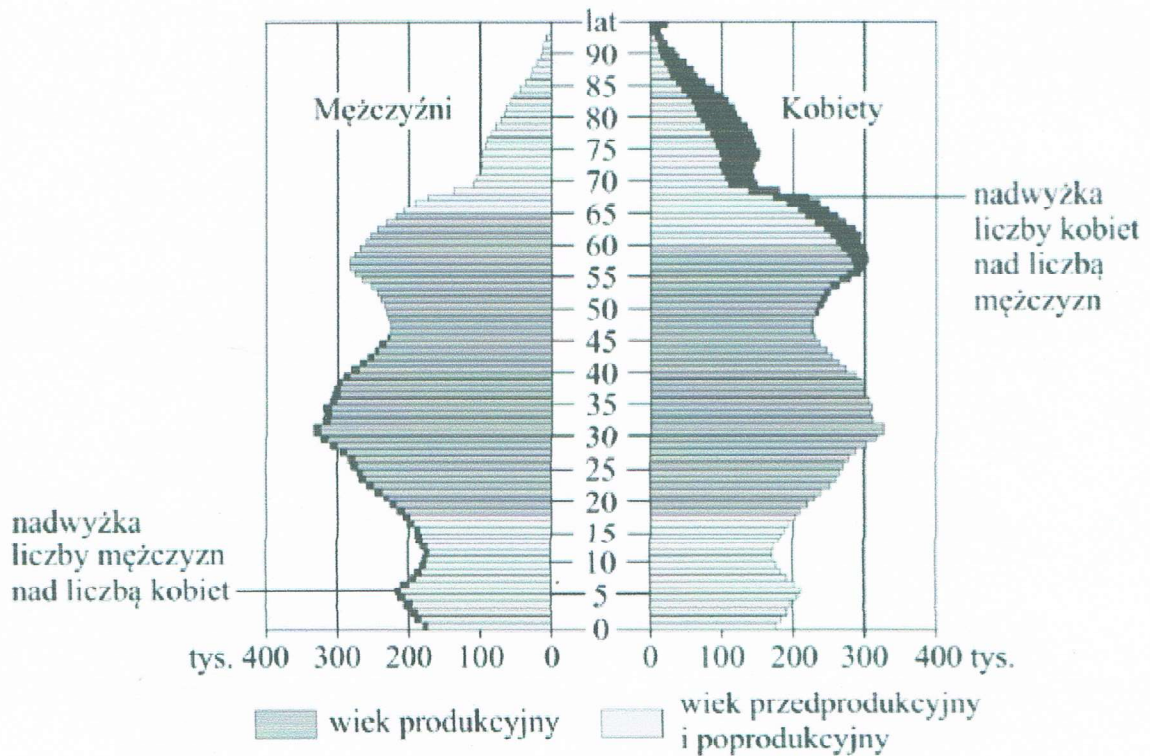


## ZAD. 8.

Piramida wieku i płci została sporządzona dla ludności Polski z 2014 roku.



**A** Dokończ zdanie. Wybierz właściwą odpowiedź spośród podanych.

Na podstawie powyższej piramidy wieku i płci można stwierdzić, że osoby w wieku 30–35 lat

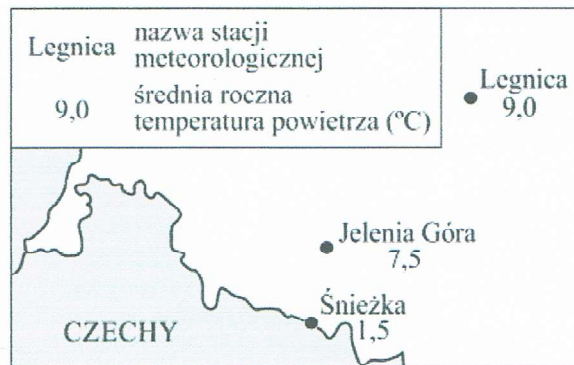
- A. urodziły się w latach 60. XX w.
- B. za 15 lat będą należeć do niżu demograficznego.
- C. stanowią grupę ludności o łącznej liczebności około 350 tys.
- D. w większości mają rodziców należących do wyżu demograficznego.

**B** Oceń prawdziwość podanych zdań. Wybierz P, jeśli zdanie jest prawdziwe, albo F – jeśli jest fałszywe.

W 2014 r. w grupie ludności Polski do 45. roku życia liczba mężczyzn w społeczeństwie była większa od liczby kobiet.	P	F
W Polsce w 2014 r. liczba ludności w wieku nieprodukcyjnym była większa od liczby ludności w wieku produkcyjnym.	P	F

## ZAD. 9.

Na rysunku przedstawiono położenie trzech stacji meteorologicznych, dla których podano średnie roczne temperatury powietrza (°C).



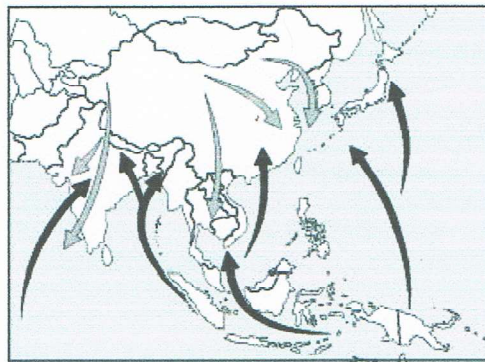
Dokończ zdanie. Wybierz właściwą odpowiedź spośród podanych.

Głównym czynnikiem różnicującym średnie roczne temperatury powietrza w Legnicy i na Śnieżce jest

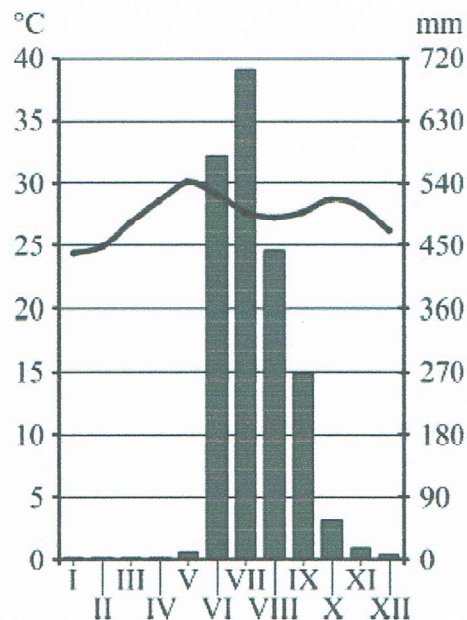
- A. szata roślinna.
- B. odległość od morza.
- C. szerokość geograficzna.
- D. wysokość bezwzględna.

## ZAD. 10

Na rysunku strzałkami przedstawiono kierunki monsunu letniego i monsunu zimowego. Na wykresie zilustrowano roczny rozkład opadów atmosferycznych i temperatury powietrza charakterystyczny dla Azji Południowo-Wschodniej.



→ 1    → 2



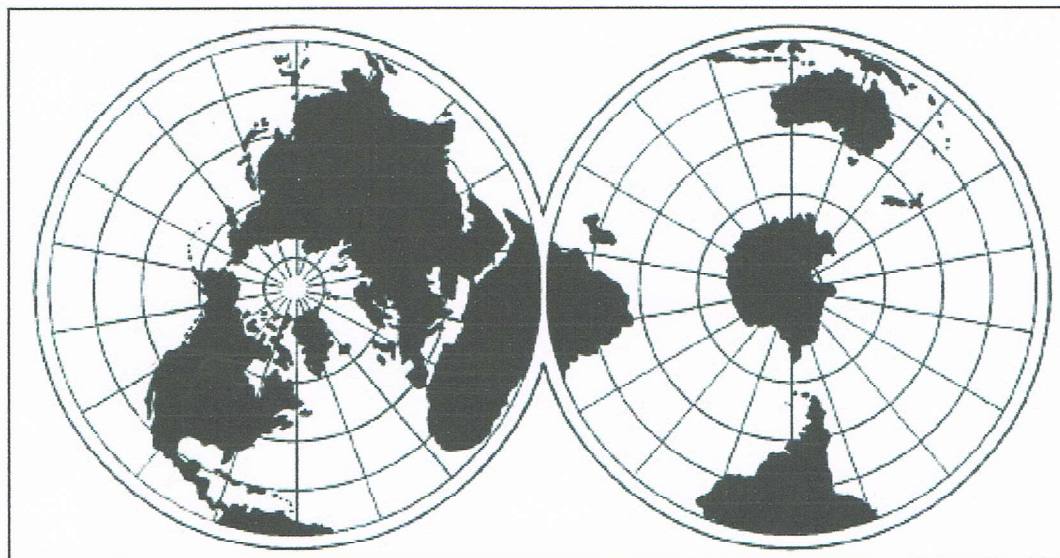


Oceń prawdziwość podanych zdań. Wybierz P, jeśli zdanie jest prawdziwe, albo F – jeśli jest fałszywe.

Uprawie ryżu w Azji Południowo-Wschodniej sprzyja monsun, którego kierunek wskazują strzałki oznaczone numerem 2.	P	F
W okresie między początkiem roku a nadejściem monsunu letniego wzrasta średnia miesięczna temperatura powietrza.	P	F

## ZAD.11.

Na rysunku, w tej samej skali, przedstawiono obie półkule: północną i południową.



Oceń prawdziwość podanych zdań. Wybierz P, jeśli zdanie jest prawdziwe, albo F – jeśli jest fałszywe.

W Arktyce biegun geograficzny jest położony na lądzie.	P	F
W Antarktyce lądolód zajmuje większą powierzchnię niż w Arktyce.	P	F

## ZAD. 12.

Na mapie Europy linią przerywaną narysowano trasę wycieczki autokarowej z Paryża do Kijowa. Uczestnicy wycieczki zwiedzali miasta zaznaczone kropkami.



**Dokończ zdanie. Wybierz właściwą odpowiedź spośród podanych.**

Trasa wycieczki między Paryżem a Kijowem przebiegała przez

- A. Pragę, Budapeszt i Wiedeń.
- B. Berno, Wiedeń i Bratysławę.
- C. Budapeszt, Bukareszt i Pragę.
- D. Bratysławę, Berno i Bukareszt.